




דף עבודה



אני דו מרכזי במשך של? ____



אני דו מרכזי במשך של? ____



אני דו מרכזי במשך של? ____

תארו את סימני ההיכר של הסימנים הבאים:

רבע _____

חצי _____ אליפסה ריקה שממנה יוצא קו

שלם _____

רשמו על גבי החמשה את הדו המרכזי במשכים של שלם, חצי, ורבע:

